

**БЛАНК
ОТВЕТОВ**

Фамилия, Имя, _____
 Отчество _____
 Школа _____
 Дата рождения _____
 Учитель _____
 ШИФР _____

I. Задания в закрытой форме

№ вопроса	Варианты ответов				№ вопроса	Варианты ответов			
	«а»	«б»	«в»	«г»		«а»	«б»	«в»	«г»
1 +	а	б	в	г	7 -	а	б	в	г
2 -	а	б	в	г	8 +	а	б	в	г
3 -	а	б	в	г	9 -	а	б	в	г
4 -	а	б	в	г	10 +	а	б	в	г
5 -	а	б	в	г	11 +	а	б	в	г
6 -	а	б	в	г	12 +	а	б	в	г

II. Задания в открытой форме

№ вопроса	Ответ	
13	Хоккей	+ 25
14	Тренер - капитан	-
15	6 + 600	-
16	Легкая атлетика	-
17	Футбольная площадка арена (поле)	-

III. Задание на соответствие и сопоставление

18	1	2	3	4
	в +	г +	б +	а +

IV. Задание - ребус

19	бокс	+
20	Финны	+

Оценка (слагаемые и сумма) $5+2+4+4 = 155$

Подписи членов жюри: _____

Карпуков Карпуков Г.М.
 Зорудан Зорудан Ю.И.

I. Задания в закрытой форме

Ответ отмечайте зачёркиванием соответствующего квадрата в бланке.

1. В каком виде спорта используется данный мяч?







- а) волейбол
- б) футбол
- в) гандбол
- г) баскетбол

2. Какой ступени соответствуют нормы ГТО для школьников 11–12 лет?

- а) 1 ступень
- б) 2 ступень
- в) 3 ступень
- г) 4 ступень

3. Какую награду получали победители античных Олимпийских игр?


а) 	б) 	в) 	<input checked="" type="radio"/> г) 
---	---	--	--

4. Как называется гимнастическое положение, представленное на рисунке?

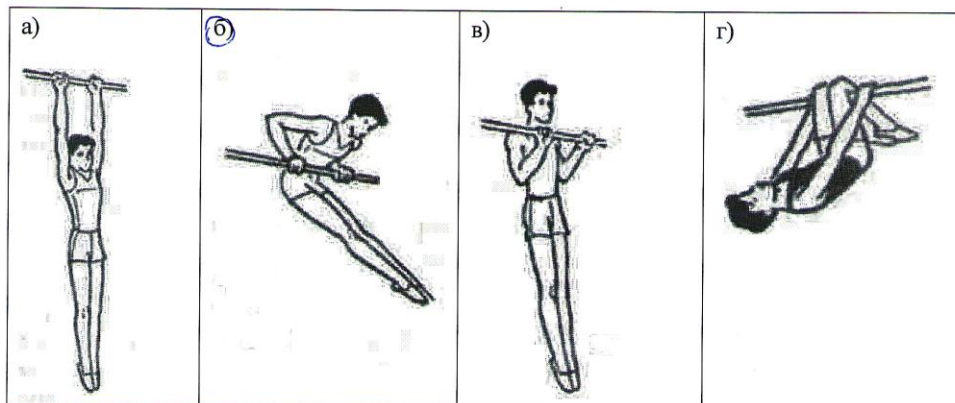


- а) исходное положение
- б) основная стойка
- в) стойка руки вниз
- г) стойка ноги вместе


5. Какой из талисманов соответствует зимним Олимпийским играм, проходившим в 2014 году в Сочи?



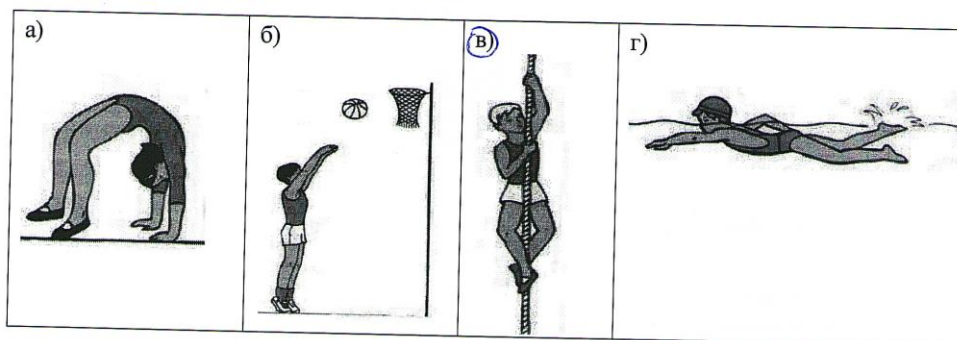
6. На каком изображении представлен вис на согнутых руках?



7. На какой фотографии изображена олимпийская чемпионка Светлана Хоркина?



8. Какое физическое упражнение способствует развитию силы?



9. Вид спорта, соединявший в себе борьбу и кулачный бой. Входил в программу античных Олимпийских игр.

- а) пентатлон
- б) панкратион
- в) долиходром
- г) гошпитодром


10. В каком виде спорта мяч имеет наибольший размер?

- а) гольф
- б) настольный теннис
- в) бейсбол
- г) баскетбол

11. В каком виде спорта соревнования проводятся как на открытом воздухе, так и в крытых сооружениях?

- а) лёгкая атлетика
- б) фигурное катание
- в) лыжные гонки
- г) фехтование

12. На каком рисунке представлена гиря?



II. Задания в открытой форме

Ответ впишите в соответствующую графу бланка.

13. Назовите вид спорта, в котором спортивная обувь, представленная на рисунке, является частью экипировки?




14. Педагог, специалист в каком-либо виде спорта, занимающийся подготовкой спортсменов, – это

15. В каком году до нашей эры праздновались первые античные Олимпийские игры? В ответ запишите только число.

16. Способность выполнять движение с большой амплитудой – это

17. Спортивное сооружение, изображённое на фотографии, – это



III. Задание на соответствие и сопоставление

Ответ впишите в соответствующую графу бланка.



18. Установите соответствие между изображениями и видами закаливания водой.

Изображение	Вид закаливания
1) 	А) обливание
2) 	Б) обтирание мокрым полотенцем
3) 	В) ножные ванны
4) 	Г) купание в открытом водоёме

IV. Задание – ребус

Используя иллюстрации, составьте термин из области физической культуры и спорта.

Ответ впишите в соответствующую графу бланка.



**БЛАНК
ОТВЕТОВ**

Фамилия, Имя, Отчество _____
 Школа _____
 Дата рождения _____
 Учитель _____
 ШИФР _____

I. Задания в закрытой форме

№ вопроса	Варианты ответов				№ вопроса	Варианты ответов			
	«а»	«б»	«в»	«г»		«а»	«б»	«в»	«г»
1 +	а	б	в	г	7 -	а	б	в	г
2 +	а	б	в	г	8 -	а	б	в	г
3 -	а	б	в	г	9 -	а	б	в	г
4 -	а	б	в	г	10 +	а	б	в	г
5 -	а	б	в	г	11 -	а	б	в	г
6 +	а	б	в	г	12 +	а	б	в	г

50

II. Задания в открытой форме

№ вопроса	Ответ	
13	фигурное катание	-
14	тренер	+
15		
16		
17	стадион	+ 4

III. Задание на соответствие и сопоставление

18	1	2	3	4
	В +	Г +	Б +	А +

40

IV. Задание – ребус

19	колесо	-
20	финиш	+ 20

Оценка (слагаемые и сумма) $5 + 4 + 4 + 2 = 15$ 0

Подписи членов жюри: Природоводов Игорь Евг. / Косовская
Карпова Карина, 8 кл.
Зорькина З.С.

I. Задания в закрытой форме

Ответ отмечайте зачёркиванием соответствующего квадрата в бланке.

1. В каком виде спорта используется данный мяч?







- а) волейбол
- б) футбол
- в) гандбол
- г) баскетбол

2. Какой ступени соответствуют нормы ГТО для школьников 11–12 лет?

- а) 1 ступень
- б) 2 ступень
- в) 3 ступень
- г) 4 ступень

3. Какую награду получали победители античных Олимпийских игр?


а) 	б) 	в) 	г) 
---	---	--	---

4. Как называется гимнастическое положение, представленное на рисунке?

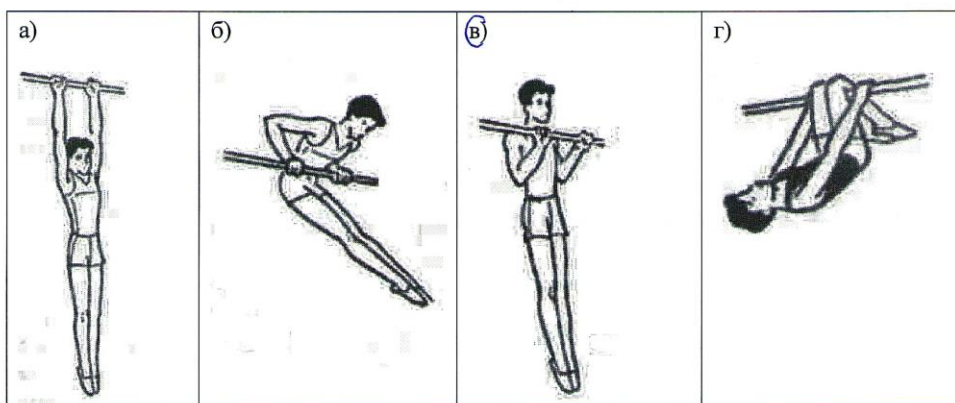


- а) исходное положение
- б) основная стойка
- в) стойка руки вниз
- г) стойка ноги вместе


5. Какой из талисманов соответствует зимним Олимпийским играм, проходившим в 2014 году в Сочи?



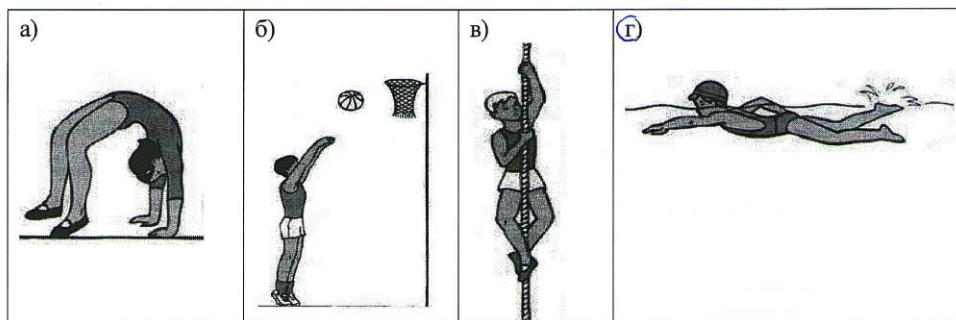
6. На каком изображении представлен вис на согнутых руках?



7. На какой фотографии изображена олимпийская чемпионка Светлана Хоркина?



8. Какое физическое упражнение способствует развитию силы?



9. Вид спорта, соединявший в себе борьбу и кулачный бой. Входил в программу античных Олимпийских игр.

- а) пентатлон
- б) панкратион
- в) долиходром
- г) гоплитодром

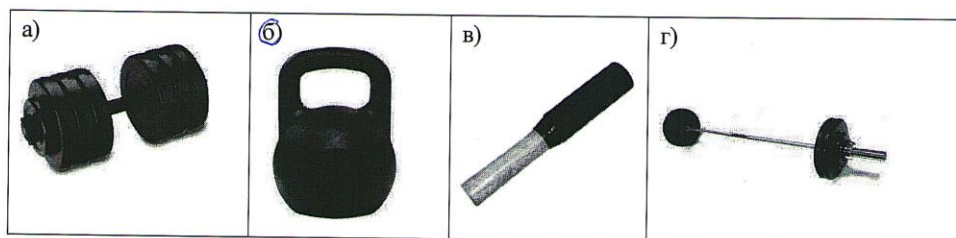
10. В каком виде спорта мяч имеет наибольший размер?

- а) гольф
- б) настольный теннис
- в) бейсбол
- г) баскетбол

11. В каком виде спорта соревнования проводятся как на открытом воздухе, так и в крытых сооружениях?

- а) лёгкая атлетика
- б) фигурное катание
- в) лыжные гонки
- г) фехтование

12. На каком рисунке представлена гиря?



II. Задания в открытой форме

Ответ впишите в соответствующую графу бланка.

13. Назовите вид спорта, в котором спортивная обувь, представленная на рисунке, является частью экипировки?




14. Педагог, специалист в каком-либо виде спорта, занимающийся подготовкой спортсменов, – это

15. В каком году до нашей эры праздновались первые античные Олимпийские игры? В ответ запишите только число.

16. Способность выполнять движение с большой амплитудой – это





17. Спортивное сооружение, изображённое на фотографии, – это



III. Задание на соответствие и сопоставление

Ответ впишите в соответствующую графу бланка.

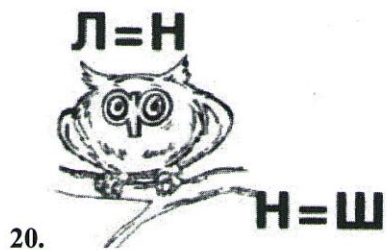
18. Установите соответствие между изображениями и видами закаливания водой.

Изображение	Вид закаливания
1) 	А) обливание
2) 	Б) обтирание мокрым полотенцем
3) 	В) ножные ванны
4) 	Г) купание в открытом водоёме

IV. Задание – ребус

Используя иллюстрации, составьте термин из области физической культуры и спорта.

Ответ впишите в соответствующую графу бланка.



**БЛАНК
ОТВЕТОВ**

Фамилия, Имя, Отчество _____
 Школа _____
 Дата рождения _____
 Учитель _____
 ШИФР _____

I. Задания в закрытой форме

№ вопроса	Варианты ответов				№ вопроса	Варианты ответов			
	«а»	«б»	«в»	«г»		«а»	«б»	«в»	«г»
1 +	а	б	в	г	7 -	а	б	в	г
2 +	а	б	в	г	8 +	а	б	в	г
3 -	а	б	в	г	9 -	а	б	в	г
4 -	а	б	в	г	10 -	а	б	в	г
5 +	а	б	в	г	11 +	а	б	в	г
6 +	а	б	в	г	12 +	а	б	в	г

45

II. Задания в открытой форме

№ вопроса	Ответ	
13	фигурная катанка	-
14	тренер	+
15		-
16		-
17	стадион	+

48

III. Задание на соответствие и сопоставление

18	1	2	3	4
	в +	г +	б +	а +

48

IV. Задание – ребус

19	блес	+
20	фигурки	+

48

Оценка (слагаемые и сумма) $7+4+4+4=198$

Подписи членов жюри: *Михайловский Алексей* (подпись)
Марья Карпунов (подпись)
Ирина Зарубина (подпись)

I. Задания в закрытой форме

Ответ отмечайте зачёркиванием соответствующего квадрата в бланке.

1. В каком виде спорта используется данный мяч?







- а) волейбол
- б) футбол
- в) гандбол
- г) баскетбол

2. Какой ступени соответствуют нормы ГТО для школьников 11–12 лет?

- а) 1 ступень
- б) 2 ступень
- в) 3 ступень
- г) 4 ступень

3. Какую награду получали победители античных Олимпийских игр?


а) 	б) 	в) 	г) 
---	---	--	---

4. Как называется гимнастическое положение, представленное на рисунке?

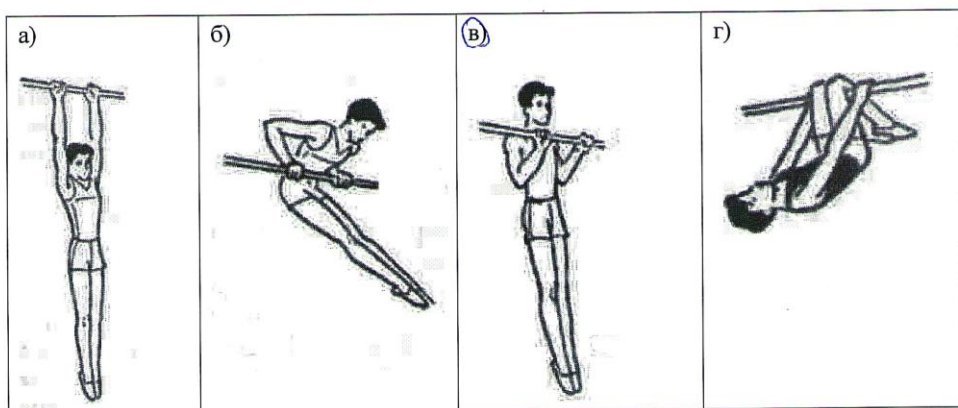


- а) исходное положение
- б) основная стойка
- в) стойка руки вниз
- г) стойка ноги вместе


5. Какой из талисманов соответствует зимним Олимпийским играм, проходившим в 2014 году в Сочи?



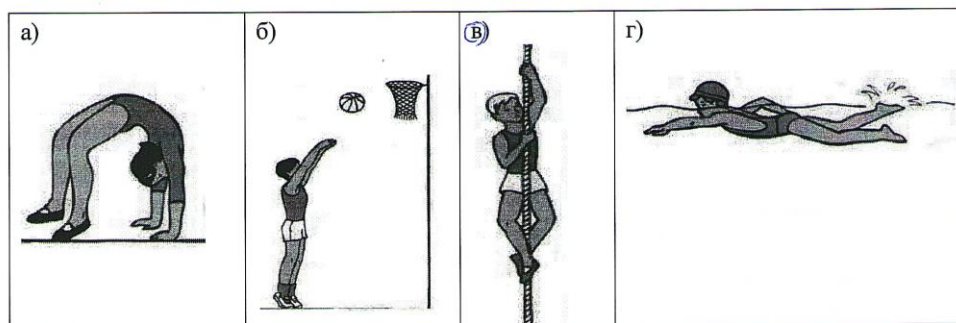
6. На каком изображении представлен вис на согнутых руках?



7. На какой фотографии изображена олимпийская чемпионка Светлана Хоркина?



8. Какое физическое упражнение способствует развитию силы?



9. Вид спорта, соединявший в себе борьбу и кулачный бой. Входил в программу античных Олимпийских игр.

- а) пентатлон
- б) панкратион
- в) долиходром
- г) гоплитодром

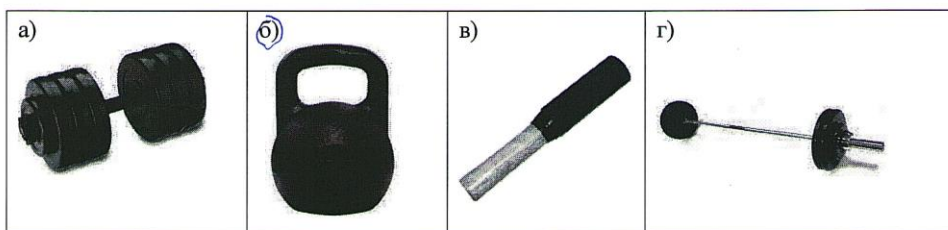
10. В каком виде спорта мяч имеет наибольший размер?

- а) гольф
- б) настольный теннис
- в) бейсбол
- г) баскетбол

11. В каком виде спорта соревнования проводятся как на открытом воздухе, так и в крытых сооружениях?

- а) лёгкая атлетика
- б) фигурное катание
- в) лыжные гонки
- г) фехтование

12. На каком рисунке представлена гирия?



II. Задания в открытой форме

Ответ впишите в соответствующую графу бланка.

13. Назовите вид спорта, в котором спортивная обувь, представленная на рисунке, является частью экипировки?




14. Педагог, специалист в каком-либо виде спорта, занимающийся подготовкой спортсменов, – это

15. В каком году до нашей эры праздновались первые античные Олимпийские игры? В ответ запишите только число.

16. Способность выполнять движение с большой амплитудой – это

17. Спортивное сооружение, изображённое на фотографии, – это



III. Задание на соответствие и сопоставление

Ответ впишите в соответствующую графу бланка.

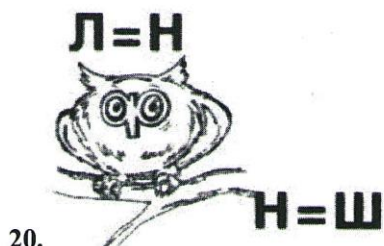
18. Установите соответствие между изображениями и видами закаливания водой.

Изображение	Вид закаливания
1) 	А) обливание
2) 	Б) обтирание мокрым полотенцем
3) 	В) ножные ванны
4) 	Г) купание в открытом водоёме

IV. Задание – ребус

Используя иллюстрации, составьте термин из области физической культуры и спорта.

Ответ впишите в соответствующую графу бланка.



**БЛАНК
ОТВЕТОВ**

Фамилия, Имя, Отчество _____
 Школа _____
 Дата рождения _____
 Учитель _____
 ШИФР _____

I. Задания в закрытой форме

№ вопроса	Варианты ответов				№ вопроса	Варианты ответов			
	«а»	«б»	«в»	«г»		«а»	«б»	«в»	«г»
1 +	а	б	в	г	7 -	а	б	в	г
2 +	а	б	в	г	8 -	а	б	в	г
3 -	а	б	в	г	9 -	а	б	в	г
4 +	а	б	в	г	10 +	а	б	в	г
5 +	а	б	в	г	11 +	а	б	в	г
6 +	а	б	в	г	12 -	а	б	в	г

75

II. Задания в открытой форме

№ вопроса	Ответ	
13	Фигурное катание	-
14	Прыжки	+ 25
15	187970	-
16	лес	-
17	Вудболетное поле	-

III. Задание на соответствие и сопоставление

18

1	2	3	4

05

IV. Задание – ребус

19

20

05

Оценка (слагаемые и сумма) $7 + 2 + 0 + 0 = 95$

Подписи членов жюри: Председатель жюри Вит. Николаевич
Карпов Карпов И. И.
Жюри Засядова Ю. И. 1

I. Задания в закрытой форме

Ответ отмечайте зачёркиванием соответствующего квадрата в бланке.

1. В каком виде спорта используется данный мяч?




- а) волейбол
- б) футбол
- в) гандбол
- г) баскетбол

2. Какой ступени соответствуют нормы ГТО для школьников 11–12 лет?

- а) 1 ступень
- б) 2 ступень
- в) 3 ступень
- г) 4 ступень

3. Какую награду получали победители античных Олимпийских игр?




4. Как называется гимнастическое положение, представленное на рисунке?

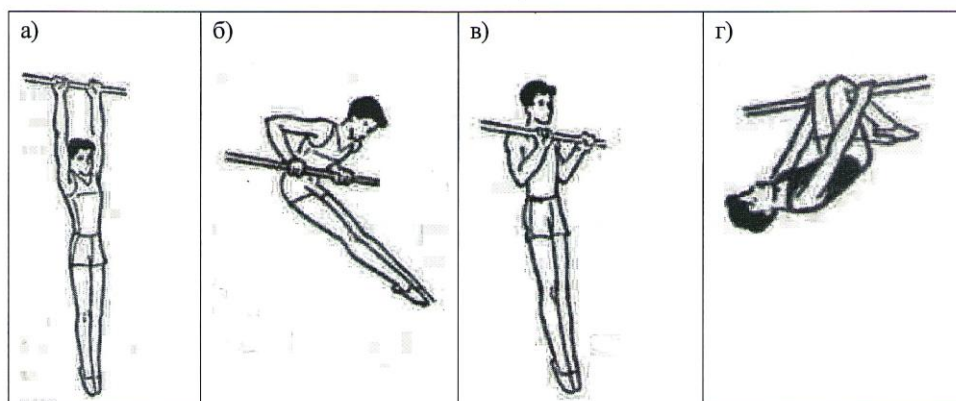


- а) исходное положение
- б) основная стойка
- в) стойка руки вниз
- г) стойка ноги вместе


5. Какой из талисманов соответствует зимним Олимпийским играм, проходившим в 2014 году в Сочи?



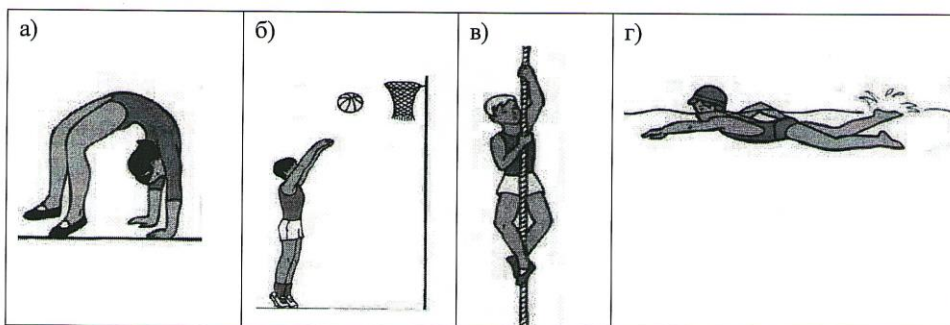
6. На каком изображении представлен вис на согнутых руках?



7. На какой фотографии изображена олимпийская чемпионка Светлана Хоркина?



8. Какое физическое упражнение способствует развитию силы?



9. Вид спорта, соединявший в себе борьбу и кулачный бой. Входил в программу античных Олимпийских игр.

- а) пентатлон
- б) панкратион
- в) долиходром
- г) гоплитодром

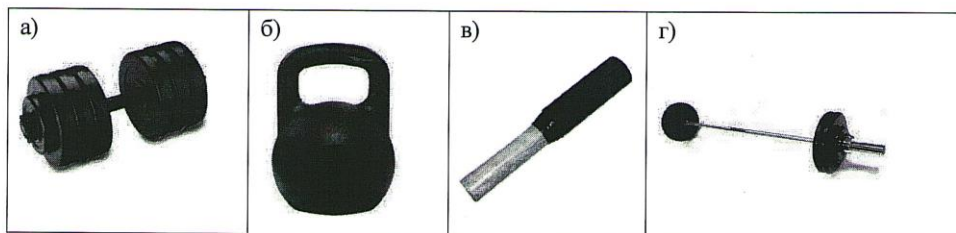
10. В каком виде спорта мяч имеет наибольший размер?

- а) гольф
- б) настольный теннис
- в) бейсбол
- г) баскетбол

11. В каком виде спорта соревнования проводятся как на открытом воздухе, так и в крытых сооружениях?

- а) лёгкая атлетика
- б) фигурное катание
- в) лыжные гонки
- г) фехтование

12. На каком рисунке представлена гиря?



II. Задания в открытой форме

Ответ впишите в соответствующую графу бланка.

13. Назовите вид спорта, в котором спортивная обувь, представленная на рисунке, является частью экипировки?



14. Педагог, специалист в каком-либо виде спорта, занимающийся подготовкой спортсменов, – это

15. В каком году до нашей эры праздновались первые античные Олимпийские игры? В ответ запишите только число.

16. Способность выполнять движение с большой амплитудой – это




17. Спортивное сооружение, изображённое на фотографии, – это



III. Задание на соответствие и сопоставление

Ответ впишите в соответствующую графу бланка.

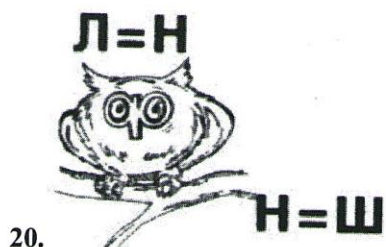
18. Установите соответствие между изображениями и видами закаливания водой.

Изображение	Вид закаливания
1) 	А) обливание
2) 	Б) обтирание мокрым полотенцем
3) 	В) ножные ванны
4) 	Г) купание в открытом водоёме

IV. Задание – ребус

Используя иллюстрации, составьте термин из области физической культуры и спорта.

Ответ впишите в соответствующую графу бланка.



41764

**БЛАНК
ОТВЕТОВ**

Фамилия, Имя, Отчество _____
 Школа _____
 Дата рождения _____
 Учитель _____
 ШИФР _____

I. Задания в закрытой форме

№ вопроса	Варианты ответов				№ вопроса	Варианты ответов			
	«а»	«б»	«в»	«г»		«а»	«б»	«в»	«г»
1 +	а	б	в	г	7 -	а	б	в	г
2 -	а	б	в	г	8 -	а	б	в	г
3 -	а	б	в	г	9 -	а	б	в	г
4 -	а	б	в	г	10 +	а	б	в	г
5 +	а	б	в	г	11 -	а	б	в	г
6 +	а	б	в	г	12 +	а	б	в	г

55

II. Задания в открытой форме

№ вопроса	Ответ	
13	кошки	-
14	тренер	+
15		-
16		-
17	плавание	-

25

III. Задание на соответствие и сопоставление

18	1	2	3	4
	в +	г +	б +	а +

45

IV. Задание – ребус

19	карабок	-
20		-

05

Оценка (слагаемые и сумма) 5 + 2 + 4 + 0 = 115

Подписи членов жюри: Александров Александр Николаевич
Карпова Светлана Владимировна
Зинченко Александр Александрович

I. Задания в закрытой форме

Ответ отмечайте зачёркиванием соответствующего квадрата в бланке.

1. В каком виде спорта используется данный мяч?




- а) волейбол
- б) футбол
- в) гандбол
- г) баскетбол

2. Какой ступени соответствуют нормы ГТО для школьников 11–12 лет?

- а) 1 ступень
- б) 2 ступень
- в) 3 ступень
- г) 4 ступень

3. Какую награду получали победители античных Олимпийских игр?




4. Как называется гимнастическое положение, представленное на рисунке?

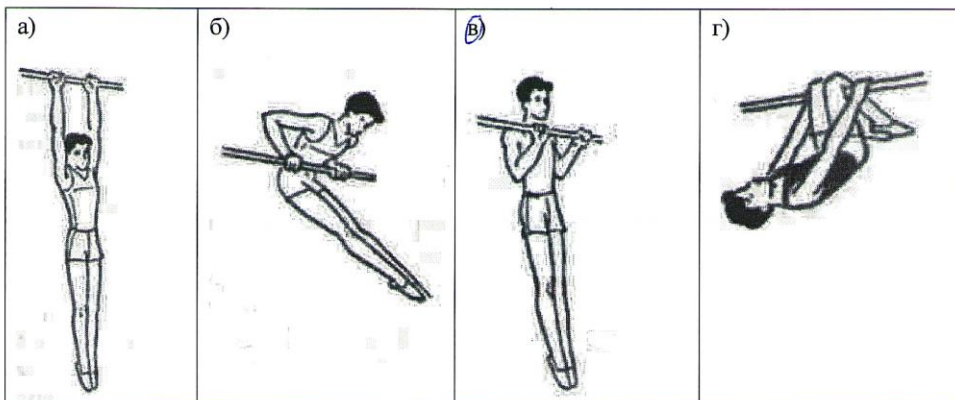


- а) исходное положение
- б) основная стойка
- в) стойка руки вниз
- г) стойка ноги вместе


5. Какой из талисманов соответствует зимним Олимпийским играм, проходившим в 2014 году в Сочи?



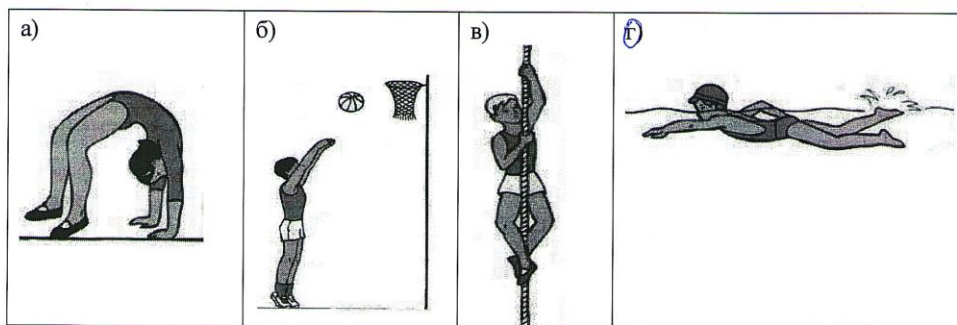
6. На каком изображении представлен вис на согнутых руках?



7. На какой фотографии изображена олимпийская чемпионка Светлана Хоркина?



8. Какое физическое упражнение способствует развитию силы?



9. Вид спорта, соединявший в себе борьбу и кулачный бой. Входил в программу античных Олимпийских игр.

- а) пентатлон
- б) панкратион
- в) долиходром
- г) гоплитодром

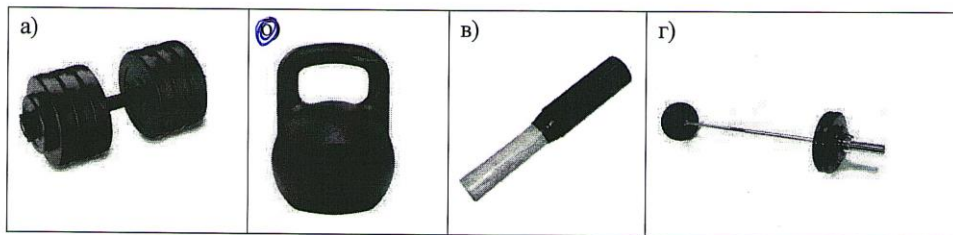
10. В каком виде спорта мяч имеет наибольший размер?

- а) гольф
- б) настольный теннис
- в) бейсбол
- г) баскетбол

11. В каком виде спорта соревнования проводятся как на открытом воздухе, так и в крытых сооружениях?

- а) лёгкая атлетика
- б) фигурное катание
- в) лыжные гонки
- г) фехтование

12. На каком рисунке представлена гиря?



II. Задания в открытой форме

Ответ впишите в соответствующую графу бланка.

13. Назовите вид спорта, в котором спортивная обувь, представленная на рисунке, является частью экипировки?



14. Педагог, специалист в каком-либо виде спорта, занимающийся подготовкой спортсменов, – это

15. В каком году до нашей эры праздновались первые античные Олимпийские игры? В ответ запишите только число.

16. Способность выполнять движение с большой амплитудой – это


17. Спортивное сооружение, изображённое на фотографии, – это



III. Задание на соответствие и сопоставление

Ответ впишите в соответствующую графу бланка.

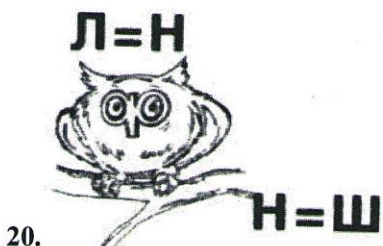
18. Установите соответствие между изображениями и видами закаливания водой.

Изображение	Вид закаливания
1) 	А) обливание
2) 	Б) обтирание мокрым полотенцем
3) 	В) ножные ванны
4) 	Г) купание в открытом водоёме

IV. Задание – ребус


Используя иллюстрации, составьте термин из области физической культуры и спорта.

Ответ впишите в соответствующую графу бланка.



II. Теоретико-методическое задание.

Задания в закрытой форме

1. Занятия, связанные с укреплением здоровья, развитием физических качеств и организацией активного отдыха – это:
- А. Физическая культура
 - Б. Физическое упражнение
 - В. Отдых
 - Г. Зарядка
2. Какая международная организация руководит Олимпийским движением
- А. Международная федерация олимпийских видов спорта
 - Б. Организация Объединенных Наций
 - В. Международный Олимпийский комитет
3. XXII Зимние Олимпийские игры проходили в ...
- А. России
 - Б. США
 - В. Норвегии
4. Олимпийский символ представляет собой пять переплетенных колец, расположенных слева направо в следующем порядке...
- А. Вверху – синее, черное, красное, внизу желтое и зеленое
 - Б. Вверху – зеленое, черное, красное; внизу – синее и желтое
 - В. Вверху – красное, синее, черное; внизу – желтое и зеленое
5. Что символизируют пять переплетенных колец.
- А. Количество дней, отведенных на олимпийские игры в Древней Греции
 - Б. Единство пяти континентов
 - В. Количество комплектов наград
 - Д. Среди ответов нет верного
6. Выдающиеся Российские(советские) спортсмены по спортивной гимнастике ...
- А. Турищева Л., Корбут О., С. Хоркина
 - Б. Дерюгина И., Кабаева А., Немов А.
 - В. Королёв Ю., Болотников П., Шугурова Г.
7. Белгородец, Олимпийский чемпион летней олимпиады 2012 года в Лондоне....
- А. Сергей Тетюхин
 - Б. Вадим Хомутских
 - В. Фёдор Емельяненко
8. Впервые правила баскетбола сформулировал ...
- А. Джеймс Нейсмит
 - Б. Майкл Джордан
 - В. Шакил О'Нил
9. Физкультминутки и физкультпаузы используются в режиме дня для ...
- А. Развития физических качеств
 - Б. Подготовки к урокам физической культуры
 - В. Восстановления работоспособности человека
10. Основным средством физического воспитания школьников являются ...
- А. Физические упражнения
 - Б. Гигиенические факторы
 - В. Естественные силы природы
11. При воспитании ловкости повышенные требования предъявляются к следующим физическим способностям:
- А. Силовым
 - Б. Координационным
 - В. Скоростным.
12. В прыжках в длину результат измеряется:
- А. По пяткам
 - Б. По носкам
 - В. От планки до ближайшей к ней точки приземления
13. Определите вид подъема, изображенного на рисунке.
- А. Подъем «елочкой»
 - Б. Подъем скользящим шагом
 - В. Подъем «лесенкой»
 - Г. Подъем ступающим шагом
- 
14. Ответственность за любое нарушение антидопинговой политики и правил в процессе медицинского обслуживания спортсмена несет
- А. Врач
 - Б. Тренер
 - В. Спортсмен

Задания в открытой форме

15. Система использований физических факторов внешней среды для повышения сопротивляемости организма к простудным и инфекционным заболеваниям принято называть ...

16. Команда какой страны идет первой в парадном шествии спортсменов на празднике открытия Олимпийских игр?

17. Состояние устойчивого положения тела в пространстве называется....

Задания на соответствие

18. Сопоставьте олимпийских чемпионов в виде спорта, в которых они выступали.

Ответ буквами запишите в бланк ответов.

1	Спортивная гимнастика	А	Любовь Егорова
2	Художественная гимнастика	Б	Елена Шушунова
3	Лыжный спорт	В	Владимир Сальников
4	Плавание	Г	Маргарита Мамун
5	Борьба	Д	Наталья Воробьева

Задания процессуального или алгоритмического толка

19. Расставьте в правильном порядке последовательность обучения техническому приёму волейбола:

- 1. Имитация приёма
- 2. Закрепление в игре
- 3. Показ
- 4. Многократное повторение
- 5. Подводящие упражнения

Задания, связанные с перечислениями

20. Перечислите символы, относящиеся к олимпийским. Запишите не менее 7 вариантов

Задания с иллюстрациями

21. Отметьте упражнение на оценку гибкости.

А	Б	В	Г
			Все ответы верны

22. Определите вид подачи, изображенной на рисунке.



- А. Нижняя прямая подача
- Б. Верхняя прямая подача
- В. Боковая подача
- Г. Верхняя прямая в прыжке

Члены предметно-методической комиссии
ФИО


*Карпунов И. М.
Зердобин С. М.*

*Роспись
Карпунов И. М.
Зердобин С. М.*

*+ 25
Итого: 65*

II. Теоретико-методическое задание.

Задания в закрытой форме

1. Занятия, связанные с укреплением здоровья, развитием физических качеств и организацией активного отдыха – это:
- А. Физическая культура
 Б. Физическое упражнение
 В. Отдых
 Г. Зарядка
2. Какая международная организация руководит Олимпийским движением
- А. Международная федерация олимпийских видов спорта
 Б. Организация Объединенных Наций
 В. Международный Олимпийский комитет
3. XXII Зимние Олимпийские игры проходили в ...
- А. России Б. США В. Норвегии
4. Олимпийский символ представляет собой пять переплетенных колец, расположенных слева направо в следующем порядке...
- А. Вверху – синее, черное, красное, внизу желтое и зеленое
 Б. Вверху – зеленое, черное, красное; внизу – синее и желтое
 В. Вверху – красное, синее, черное; внизу – желтое и зеленое
5. Что символизируют пять переплетенных колец.
- А. Количество дней, отведенных на олимпийские игры в Древней Греции
 Б. Единство пяти континентов
 В. Количество комплектов наград
 Д. Среди ответов нет верного
6. Выдающиеся Российские(советские) спортсмены по спортивной гимнастике ...
- А. Турищева Л., Корбут О., С. Хоркина
 Б. Дерюгина И., Кабаева А., Немов А.
 В. Королёв Ю., Болотников П., Шугурова Г.
7. Белгородец, Олимпийский чемпион легкой атлетики 2012 года в Лондоне...
- А. Сергей Тетюхин Б. Вадим Хомутских В. Фёдор Емельяненко
8. Впервые правила баскетбола сформулировал ...
- А. Джеймс Нейсмит Б. Майкл Джордан В. Шакил О'Нил
9. Физкультминутки и физкультпаузы используются в режиме дня для ...
- А. Развития физических качеств Б. Подготовки к урокам физической культуры
 В. Восстановления работоспособности человека
10. Основным средством физического воспитания школьников являются ...
- А. Физические упражнения Б. Гигиенические факторы В. Естественные силы природы
11. При воспитании ловкости повышенные требования предъявляются к следующим физическим способностям:
- А. Силовым Б. Координационным В. Скоростным.
12. В прыжках в длину результат измеряется:
- А. По пяткам
 Б. По носкам
 В. От планки до ближайшей к ней точки приземления
13. Определите вид подъема, изображенного на рисунке.
- А. Подъем «елочкой»
 Б. Подъем скользящим шагом
 В. Подъем «лесенкой»
 Г. Подъем ступающим шагом
- 
14. Ответственность за любое нарушение антидопинговой политики и правил в процессе медицинского обслуживания спортсмена несет
- А. Врач
 Б. Тренер
 В. Спортсмен

11972
 1+35

Задания в открытой форме

15. Система использований физических факторов внешней среды для повышения сопротивляемости организма к простудным и инфекционным заболеваниям принято называть ...

16. Команда какой страны идет первой в парадном шествии спортсменов на празднике открытия Олимпийских игр?

17. Состояние устойчивого положения тела в пространстве называется....

105

Задания на соответствие

18. Сопоставьте олимпийских чемпионов в виде спорта, в которых они выступали.

Ответ буквами запишите в бланк ответов.

1	Спортивная гимнастика Г	А	Любовь Егорова
2	Художественная гимнастика Б	Б	Елена Шупунова
3	Лыжный спорт А Д	В	Владимир Сальников
4	Плавание А	Г	Маргарита Мамун
5	Борьба В	Д	Наталья Воробьева

105

Задания процессуального или алгоритмического толка

19. Расставьте в правильном порядке последовательность обучения техническому приёму волейбола: 1, 2, 3, 4, 5.

- 1. Имитация приёма
- 2. Закрепление в игре
- 3. Показ
- 4. Многократное повторение
- 5. Подводящие упражнения

101

Задания, связанные с перечислениями

20. Перечислите символы, относящиеся к олимпийским. Запишите не менее 7 вариантов

Лунный меч, бокс, футбол, волейбол, хоккей, борьба, гимнастика

105

Задания с иллюстрациями

21. Отметьте упражнение на оценку гибкости.

А	Б	В	Г
			Все ответы верны

+

22. Определите вид подачи, изображенной на рисунке.



- А. Нижняя прямая подача
- Б. Верхняя прямая подача
- В. Боковая подача
- Г. Верхняя прямая в прыжке

25
Верно: 65

Члены предметно-методической комиссии

ФИО


*Александрова Елена
Александрова Елена
Карпунова
Зарудная Ю.С.*

Роспись

*Карпунова О.П.
Карпунова
М.П.*

II. Теоретико-методическое задание.

Задания в закрытой форме

- 1. Занятия, связанные с укреплением здоровья, развитием физических качеств и организацией активного отдыха – это:
 А. Физическая культура
 Б. Физическое упражнение
 В. Отдых
 Г. Зарядка
- 2. Какая международная организация руководит Олимпийским движением
 А. Международная федерация олимпийских видов спорта
 Б. Организация Объединенных Наций
 В. Международный Олимпийский комитет
- + 3. XXII Зимние Олимпийские игры проходили в ...
 А. России Б. США В. Норвегии
- 4. Олимпийский символ представляет собой пять переплетенных колец, расположенных слева направо в следующем порядке...
 А. Вверху – синее, черное, красное, внизу желтое и зеленое
 Б. Вверху – зеленое, черное, красное; внизу – синее и желтое
 В. Вверху – красное, синее, черное; внизу – желтое и зеленое
- 5. Что символизируют пять переплетенных колец.
 А. Количество дней, отведенных на олимпийские игры в Древней Греции
 Б. Единство пяти континентов
 В. Количество комплектов наград
 Д. Среди ответов нет верного
- 6. Выдающиеся Российские(советские) спортсмены по спортивной гимнастике ...
 А. Турищева Л., Корбут О., С. Хоркина
 Б. Дерюгина И., Кабаева А., Немов А.
 В. Королёв Ю., Болотников П., Шугурова Г.
- 7. Белгородец, Олимпийский чемпион летней олимпиады 2012 года в Лондоне....
 А. Сергей Тетюхин Б. Вадим Хомутских В. Фёдор Емельяненко
- 8. Впервые правила баскетбола сформулировал ...
 А. Джеймс Нейсмит Б. Майкл Джордан В. Шакил О'Нил
- + 9. Физкультминутки и физкультпаузы используются в режиме дня для ...
 А. Развития физических качеств Б. Подготовки к урокам физической культуры
 В. Восстановления работоспособности человека
- + 10. Основным средством физического воспитания школьников являются ...
 А. Физические упражнения Б. Гигиенические факторы В. Естественные силы природы
- + 11. При воспитании ловкости повышенные требования предъявляются к следующим физическим способностям:
 А. Силовым Б. Координационным В. Скоростным.
- + 12. В прыжках в длину результат измеряется:
 А. По пяткам
 Б. По носкам
 В. От планки до ближайшей к ней точки приземления
- 13. Определите вид подъема, изображенного на рисунке.
 А. Подъем «елочкой»
 Б. Подъем скользящим шагом
 В. Подъем «лесенкой»
 Г. Подъем ступающим шагом
- 
- 14. Ответственность за любое нарушение антидопинговой политики и правил в процессе медицинского обслуживания спортсмена несет
 А. Врач
 Б. Тренер
 В. Спортсмен

Задания в открытой форме

15. Система использований физических факторов внешней среды для повышения сопротивляемости организма к простудным и инфекционным заболеваниям принято называть ...
16. Команда какой страны идет первой в парадном шествии спортсменов на празднике открытия Олимпийских игр?
17. Состояние устойчивого положения тела в пространстве называется....

Задания на соответствие

18. Сопоставьте олимпийских чемпионов в виде спорта, в которых они выступали. Ответ буквами запишите в бланк ответов.

1	Спортивная гимнастика	А	Любовь Егорова
2	Художественная гимнастика	Б	Елена Шушунова
3	Лыжный спорт	В	Владимир Сальников
4	Плавание	Г	Маргарита Мамун
5	Борьба	Д	Наталья Воробьева

Задания процессуального или алгоритмического толка

19. Расставьте в правильном порядке последовательность обучения техническому приёму волейбола:



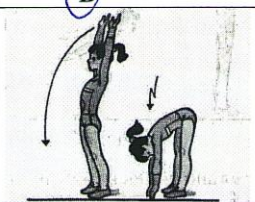
1. Имитация приёма 3 2. Закрепление в игре 4 3. Показ 1
 4. Многократное повторение 2 5. Подводящие упражнения 5

Задания, связанные с перечислениями


20. Перечислите символы, относящиеся к олимпийским. Запишите не менее 7 вариантов

Задания с иллюстрациями

21. Отметьте упражнение на оценку гибкости.

А	Б	В	Г
			Все ответы верны

22. Определите вид подачи, изображенной на рисунке.



- А. Нижняя прямая подача
 Б. Верхняя прямая подача
 В. Боковая подача
 Г. Верхняя прямая в прыжке

Члены предметно-методической комиссии

ФИО

Председатель комиссии
 Карпукова Т.М.
 Зверева Ю.С.


Роспись

Кли *Роспись*
Курт

25
 всего: 45

II. Теоретико-методическое задание.

Задания в закрытой форме

1. Занятия, связанные с укреплением здоровья, развитием физических качеств и организацией активного отдыха – это:
 А. Физическая культура
 Б. Физическое упражнение
 В. Отдых
 Г. Зарядка
2. Какая международная организация руководит Олимпийским движением
 А. Международная федерация олимпийских видов спорта
 Б. Организация Объединенных Наций
 В. Международный Олимпийский комитет
3. XXII Зимние Олимпийские игры проходили в ...
 А. России Б. США В. Норвегии
4. Олимпийский символ представляет собой пять переплетенных колец, расположенных слева направо в следующем порядке...
 А. Вверху – синее, черное, красное, внизу желтое и зеленое
 Б. Вверху – зеленое, черное, красное; внизу – синее и желтое
 В. Вверху – красное, синее, черное; внизу – желтое и зеленое
5. Что символизируют пять переплетенных колец.
 А. Количество дней, отведенных на олимпийские игры в Древней Греции
 Б. Единство пяти континентов
 В. Количество комплектов наград
 Д. Среди ответов нет верного
6. Выдающиеся Российские(советские) спортсмены по спортивной гимнастике ...
 А. Турищева Л., Корбут О., С. Хоркина
 Б. Дерюгина И., Кабаева А., Немов А.
 В. Королёв Ю., Болотников П., Шугурова Г.
7. Белгородец, Олимпийский чемпион летней олимпиады 2012 года в Лондоне....
 А. Сергей Тетюхин Б. Вадим Хомутских В. Фёдор Емельяненко
8. Впервые правила баскетбола сформулировал ...
 А. Джеймс Нейсмит Б. Майкл Джордан В. Шакил О'Нил
9. Физкультминутки и физкультпаузы используются в режиме дня для ...
 А. Развития физических качеств Б. Подготовки к урокам физической культуры
 В. Восстановления работоспособности человека
10. Основным средством физического воспитания школьников являются ...
 А. Физические упражнения Б. Гигиенические факторы В. Естественные силы природы
11. При воспитании ловкости повышенные требования предъявляются к следующим физическим способностям:
 А. Силовым Б. Координационным В. Скоростным.
12. В прыжках в длину результат измеряется:
 А. По пяткам
 Б. По носкам
 В. От планки до ближайшей к ней точки приземления
13. Определите вид подъема, изображенного на рисунке.
 А. Подъем «елочкой»
 Б. Подъем скользящим шагом
 В. Подъем «лесенкой»
 Г. Подъем ступающим шагом
- 
14. Ответственность за любое нарушение антидопинговой политики и правил в процессе медицинского обслуживания спортсмена несет
 А. Врач
 Б. Тренер
 В. Спортсмен

Задания в открытой форме

15. Система использований физических факторов внешней среды для повышения сопротивляемости организма к простудным и инфекционным заболеваниям принято называть ...
16. Команда какой страны идет первой в парадном шествии спортсменов на празднике открытия Олимпийских игр?
17. Состояние устойчивого положения тела в пространстве называется....

2/0

Задания на соответствие

18. Сопоставьте олимпийских чемпионов в виде спорта, в которых они выступали. Ответ буквами запишите в бланк ответов.

1	Спортивная гимнастика	Д	А	Любовь Егорова
2	Художественная гимнастика	А	Б	Елена Шушунова
3	Лыжный спорт	В	В	Владимир Сальников
4	Плавание	Г	Г	Маргарита Мамун
5	Борьба	Б	Д	Наталья Воробьева

05

Задания процессуального или алгоритмического толка

19. Расставьте в правильном порядке последовательность обучения техническому приёму волейбола:

1. Имитация приёма 2. Закрепление в игре
4. Многократное повторение 5. Подводящие упражнения

13. Показ

05


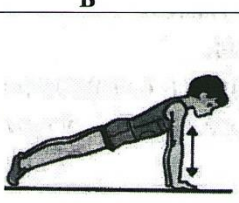

Задания, связанные с перечислениями

20. Перечислите символы, относящиеся к олимпийским. Запишите не менее 7 вариантов

05

Задания с иллюстрациями

21. Отметьте упражнение на оценку гибкости.

А	Б	В	Г
			Все ответы верны

+

22. Определите вид подачи, изображенной на рисунке.



- А. Нижняя прямая подача
- Б. Верхняя прямая подача
- В. Боковая подача
- Г. Верхняя прямая в прыжке

+

48

Мелю: 95

Члены предметно-методической комиссии
ФИО


Александров Александр
Кортунова Т. М.
Зарубин С. В.

Роспись

Кирилов Александр О. А.
Кортунова Т. М.
Зарубин С. В.

II. Теоретико-методическое задание.

Задания в закрытой форме

1. Занятия, связанные с укреплением здоровья, развитием физических качеств и организацией активного отдыха – это:
 А. Физическая культура
 Б. Физическое упражнение
 В. Отдых
 Г. Зарядка
2. Какая международная организация руководит Олимпийским движением
 А. Международная федерация олимпийских видов спорта
 Б. Организация Объединенных Наций
 В. Международный Олимпийский комитет
3. XXII Зимние Олимпийские игры прошли в ...
 А. России Б. США В. Норвегии
4. Олимпийский символ представляет собой пять переплетенных колец, расположенных слева направо в следующем порядке...
 А. Вверху – синее, черное, красное, внизу желтое и зеленое
 Б. Вверху – зеленое, черное, красное; внизу – синее и желтое
 В. Вверху – красное, синее, черное; внизу – желтое и зеленое
5. Что символизируют пять переплетенных колец.
 А. Количество дней, отведенных на олимпийские игры в Древней Греции
 Б. Единство пяти континентов
 В. Количество комплектов наград
 Д. Среди ответов нет верного
6. Выдающиеся Российские(советские) спортсмены по спортивной гимнастике ...
 А. Турищева Л., Корбут О., С. Хоркина
 Б. Дерюгина И., Кабаева А., Немов А.
 В. Королёв Ю., Болотников П., Шугурова Г.
7. Белгородец, Олимпийский чемпион летней олимпиады 2012 года в Лондоне....
 А. Сергей Тетюхин В. Вадим Хомутских В. Фёдор Емельяненко
8. Впервые правила баскетбола сформулировал ...
 А. Джеймс Нейсмит Б. Майкл Джордан В. Шакил О'Нил
9. Физкультминутки и физкультпаузы используются в режиме дня для ...
 А. Развития физических качеств Б. Подготовки к урокам физической культуры
 В. Восстановления работоспособности человека
10. Основным средством физического воспитания школьников являются ...
 А. Физические упражнения Б. Гигиенические факторы В. Естественные силы природы
11. При воспитании ловкости повышенные требования предъявляются к следующим физическим способностям:
 А. Силовым В. Координационным В. Скоростным.
12. В прыжках в длину результат измеряется:
 А. По пяткам
 Б. По носкам
 В. От планки до ближайшей к ней точки приземления
13. Определите вид подъема, изображенного на рисунке.
 А. Подъем «елочкой»
 Б. Подъем скользящим шагом
 В. Подъем «лесенкой»
 Г. Подъем ступающим шагом
- 
14. Ответственность за любое нарушение антидопинговой политики и правил в процессе медицинского обслуживания спортсмена несет
 А. Врач
 Б. Тренер
 В. Спортсмен

Задания в открытой форме

15. Система использований физических факторов внешней среды для повышения сопротивляемости организма к простудным и инфекционным заболеваниям принято называть ... *экологичность*

16. Команда какой страны идет первой в парадном шествии спортсменов на празднике открытия Олимпийских игр? *+*

17. Состояние устойчивого положения тела в пространстве называется.... *= 25*

Задания на соответствие

18. Сопоставьте олимпийских чемпионов в виде спорта, в которых они выступали.

Ответ буквами запишите в бланк ответов.

1	Спортивная гимнастика	1 А	Любовь Егорова	-
2	Художественная гимнастика	2 Б	Елена Шушунова	-
3	Лыжный спорт	5 В	Владимир Сальников	-
4	Плавание	54 Г	Маргарита Мамун	-
5	Борьба	3 Д	Наталья Воробьева	-

Задания процессуального или алгоритмического толка

19. Расставьте в правильном порядке последовательность обучения техническому приёму волейбола:


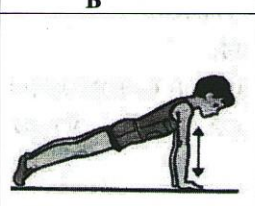
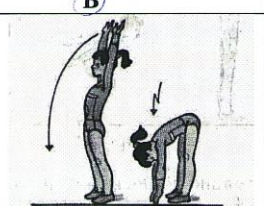
- Имитация приёма
- Закрепление в игре
- Показ
- Многочисленное повторение
- Подводящие упражнения

Задания, связанные с перечислениями

20. Перечислите символы, относящиеся к олимпийским. *Запишите не менее 7 вариантов*

Задания с иллюстрациями

21. Отметьте упражнение на оценку гибкости.

А	Б	В	Г
			Все ответы верны

22. Определите вид подачи, изображенной на рисунке.



- Нижняя прямая подача
- Верхняя прямая подача
- Боковая подача
- Верхняя прямая в прыжке

Члены предметно-методической комиссии
ФИО

Сидорова Елена Сергеевна
Куртунова Г. И.
Заряева Н. И.

Роспись

Роспись
Куртунова
Заряева

25
Всего: 105